

Van laag naar hoog in Europa en de wereld

Deel met de atlas

Basiskennis kaartvaardigheid

1. Bekijk volgend filmpje: <https://youtu.be/zcWFlaymh48>
2. Plaats onderstaande woorden bij de juiste afbeelding:

Staatkundige kaart / register / kaart aardrijkskundige streken / inhoudstafel / legende



kaart geografische streken

Functie? Hierop worden zowel
administratieve als historische en
natuurlijke grenzen afgebeeld.



Staatkundige kaart

Functie? Hiermee worden de grenzen tussen
provincies en het land weergegeven.
Je vindt in elke provincie de hoofdplaats.



inhoudstafel

Functie? Er staat per pagina wat je terug
kunt vinden in de atlas.



register

Functie? Hier kun je alle namen van steden
vinden met de verwijzing naar de
juiste kaart in je atlas.



legende

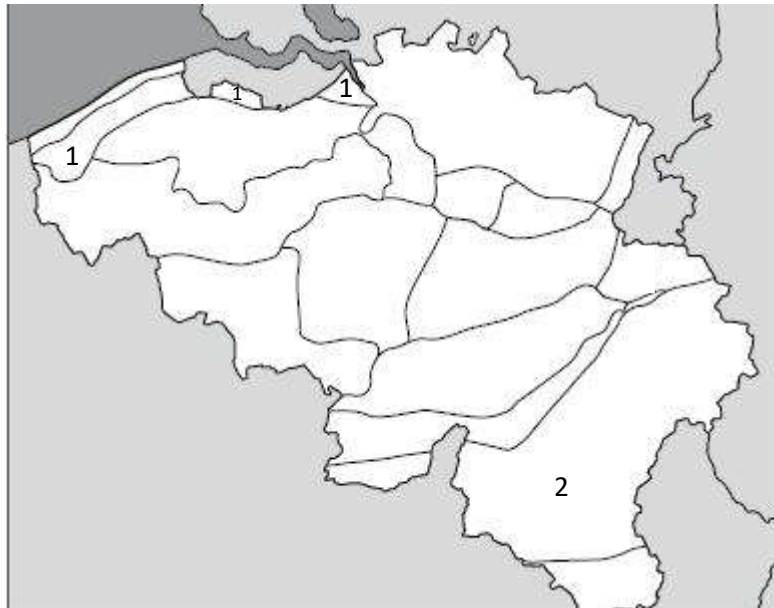
Functie? Een kader waar wordt uitgelegd wat de symbolen op de kaart betekenen.

3. Plaats de juiste functie bij elke afbeelding, kies uit volgende:

	Een kader waar wordt uitgelegd wat de symbolen op de kaart betekenen.
Hier kun je alle namen van steden vinden met de verwijzing naar de juiste kaart in je atlas.	Hiermee worden de grenzen tussen provincies en het land weergegeven. Je vindt in elke provincie de hoofdplaats.
Er staat per pagina wat je terug kunt vinden in de atlas.	Hierop worden zowel administratieve als historische en natuurlijke grenzen afgebeeld.

België

1. Extra hulp nodig bekijk het volgende filmpje: https://youtu.be/3HZW_u8dREc
2. Zoek volgende aardrijkskundige streken en geef ze een nummer: 1) Polders en 2) Ardennen.
3. Vul de visitekaart in.



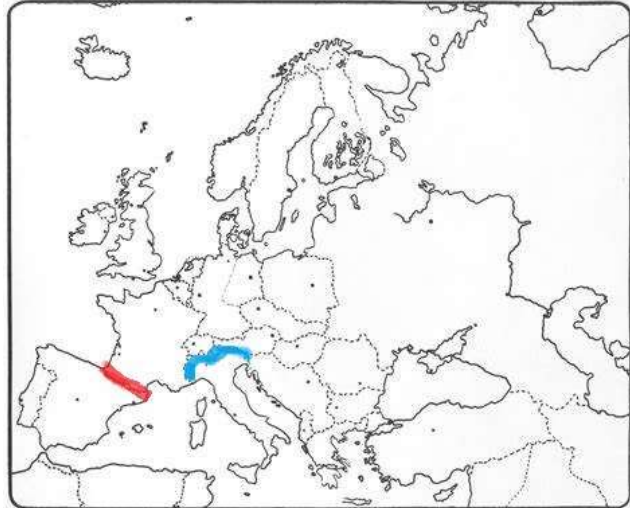
De Polders	
De ligging ten opzicht van de zeespiegel? 5 à 10 meter ten opzichte van de zeespiegel	Stad gelegen in de Polders? ○ Veurne
	Rivier gelegen in de Polders? IJzer
De Ardennen	
De ligging ten opzicht van de zeespiegel? Boven de 20 meter ten opzichte van de zeespiegel	Steden gelegen in de Ardennen? ○ Bouillon ○ La Roche-en-Ardenne ○ St-Hubert Bastogne / Spa / Malmédy

Europa

1. Extra hulp nodig? Bekijk volgend filmpje: <https://youtu.be/cW9dnZ6m86I>

2. Kleur volgende gebergten:

Pyreneeën (rood), Alpen (blauw)



3. Zoek in je atlas en duid het juiste antwoord aan.

- De Donau ontspringt in de Alpen/ **het Zwarte Woud**/ het Centraal Massief.
- De Donau stroomt door de volgende landen: Zwitserland/ **Duitsland**/ **Oostenrijk**/ **Slovenië**/ **Hongarije**/ **Kroatië**/ **Servië**/ **Bulgarije**/ **Roemenië**.
- De Donau mondt uit in de Kaspische Zee/ de Middellandse Zee/ **de Zwarte Zee**.
- De Rijn ontspringt in de **Alpen**/ de Apennijnen/ de Vogezen.
- De Rijn mondt uit in de **Noordzee**/ de Middellandse Zee/ de Atlantische Oceaan.

4. Wat is de natuurlijke grens van deze landen?

Frankrijk en Spanje	De Pyreneeën (gebergte)
Bulgarije en Roemenië	De Donau (rivier)
Europa en Azië	Oeralgebergte (gebergte) Oeral (rivier) Kaspische zee (meer)

4. Vul in: golf, zeestraat, schiereiland of eiland



- A) Golf
- B) Schiereiland
- C) Zeestraat
- D) eiland


(TIP: gebruik kaart 18)



De Europese unie

1. Combineer het land met de kaart en met het typische kenmerk van het land

A)  B)  C)  1) 







D)  2)  3)  4) 

Italië	Frankrijk	Zweden	Duitsland
A	b	C	D
4	1	3	2

De wereld

1. Extra hulp nodig? Bekijk volgend filmpje: <https://youtu.be/HETsZAohdaU>
2. Onze wereld is in verschillende delen verdeeld. Zet het juiste werelddeel bij de afbeelding.

Europa / Azië / Noord-Amerika / Zuid-Amerika / Afrika / Oceanië

		
Zuid-Amerika	Afrika	Europa
		
Azië	Noord-Amerika	Oceanië

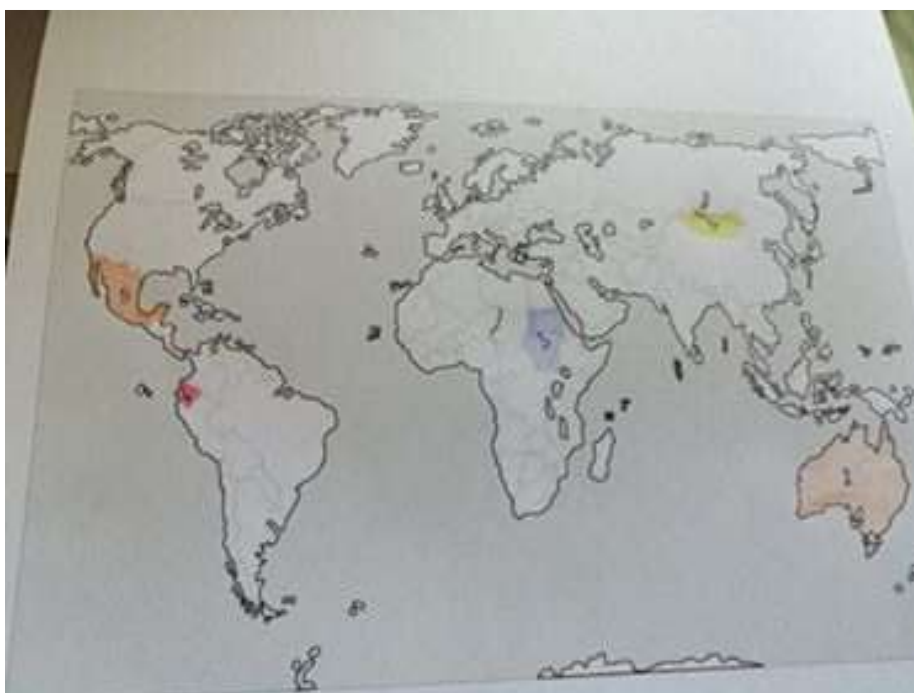
3. Bereken de bevolkingsdichtheid en zoek het werelddeel in je atlas.

Extra hulp nodig: bekijk volgend filmfragment: https://youtu.be/v5XGrZMEh_E

	Oppervlakte	Aantal inwoners	Bevolkingsdichtheid	werelddeel
Canada	9 970 610 km ²	33 212 696	3 inwoners/ km ²	Noord-Amerika
Bangladesh	143 998km ²	153547901	1066 inwoners /km ²	Azië

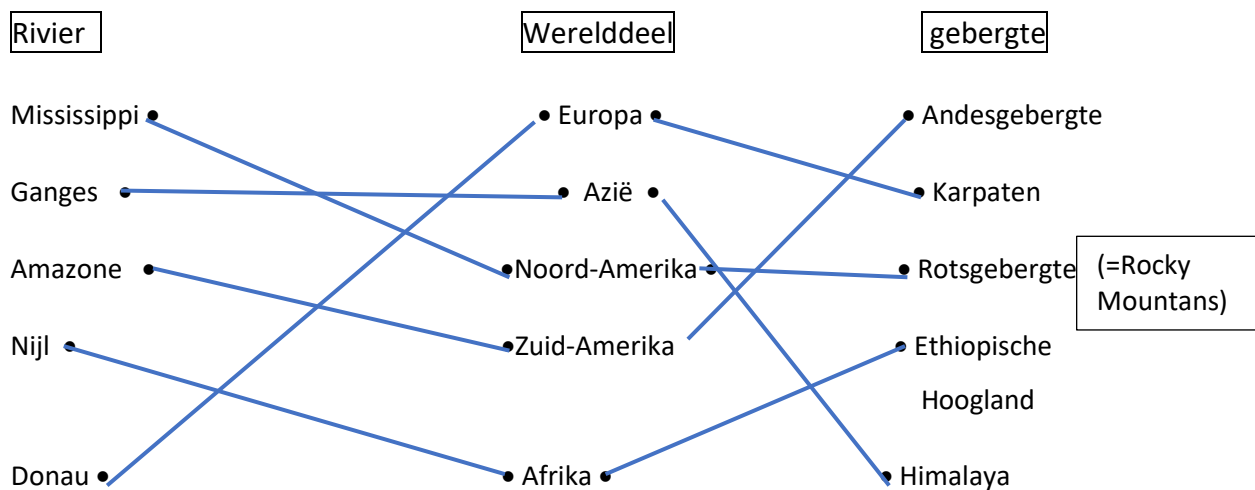
4. Duid volgende landen aan op de wereldkaart en noteer het werelddeel.

inkleuren	Land	Werelddeel
Geel (1)	Mongolië	Azië
Bruin (2)	Australië	Oceanië
Blauw (3)	Soedan	Afrika
Rood (4)	Ecuador	Zuid-Amerika
Oranje (5)	Mexico	Noord-Amerika



5. Zoek het land en het werelddeel bij de hoofdstad.

Hoofdstad	Land	Werelddeel
Peking	China	Azië
Ottawa	Canada	Noord-Amerika
Canberra	Australië	Oceanië
Lima	Peru	Zuid-Amerika
Dakar	Senegal	Afrika

6. Verbind de rivier en het gebergte aan het juiste werelddeel

Deel zonder atlas

Belgie

1. Bekijk het volgende filmfragment tot minuut 6:08: <https://schooltv.nl/video/natuur-in-grotten/#q=grot>

In de grotten kun je zowel stalactieten als stalagmieten vinden. Zie jij het verschil hieronder?
Schrijf de juiste naam bij de foto.

stalactiet



stalagmiet



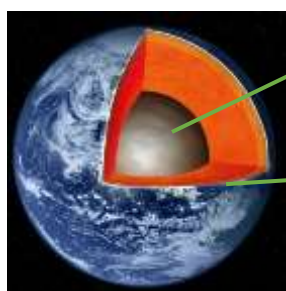
Europa

Reliëf

1. Bekijk het filmpje over gebergtes en reliëf: <https://youtu.be/2fP-hD-jXkw>

2. Vul volgende vragen in:

a. Duid de verschillende onderdelen van de aarde aan:



kern

mantel

aardkorst

b. Teken hoe een berg tot stand komt:

	<p>Er zijn tweeaardplaten..... die tegen elkaar duwen, waardoor de twee aardplaten elkaar naar omhoog duwen.</p> <p>Er treedt ook erosie op. Dit betekent dat water, wind en ijs van hoog naar laag gaan en zo al schurend dalen en valleien vormen.</p>
---	--

Europa kun je indelen in drie hoogten.

<p>het laagland tussen 0 en 200 m</p>	<p>het middelland tussen 200 en 2000 m</p>	<p>het hoogland hoger dan 2000 m</p>
--	---	---

Zo ligt het vlakke deel van België in het laagland. De plateaus in ons land liggen dan weer in het middelland. In ons land kennen we drie reliëfvormen: vlakte, heuvelland en plateau. In Europa komt daar nog een vierde bij: het gebergte.

c. Waarmee moeten we rekening houden als we het reliëf van een landschap willen achterhalen?

-Horizon.....
-Helling.....
-Hoogteverschil.....
-Hoogteligging.....

d. Bekijk volgende afbeelding welk reliëf is dit? Duid de verschillende H's aan.


Reliëf? **gebergte**



zwart= horizon

Geel= helling, rood= hoogteverschil

Reliëf? **vlakte**



Je kunt hier geen helling of hoogteverschil aanduiden.

Doe-opdracht

Bekijk het volgende filmpje: <https://youtu.be/RFGRThYMWOC>

Waterstromingen

1. Lees in je bronnenboek pagina 68-69.
2. Plaats onderstaande woorden bij de juiste beschrijving.

Waterbron / hoofdrivier / zijrivier / rivierstelsel / bergrivier / natuurlijke grens / waterscheidingslijn / stroomgebieden / meren / zeeën / oceanen / eiland / schiereiland / golf / fjord / zeestraat

Dit is een lijn die gevormd wordt door bergen of rivieren.	Natuurlijke grens
Dit zijn kleine rivieren die samenvloeien naar een hoofdrivier.	zijrivier
De scheiding tussen twee stroomgebieden.	waterscheidingslijn
Groot watergebied tussen landen, groter dan een zee.	oceanen
Hier ontspringt/ start een rivier.	waterbron
Een smal gedeelte water tussen twee stukken land.	zeestraat
Het ontspringt in de bergen of in een plateau	bergrivier
Een inham in een bergachtige kust, gekenmerkt door steile wanden die door gletsjers zijn uitgesleten.	fjord
Stilstaande waters die volledig omgeven zijn door land.	meren
Dit mondt uit in de zee of in allerlei zijrivieren.	hoofdrivier
Als een deel van de zee of de oceaan in het land binnendringt dan noemen we dit een inham, baai of	golf
Grote hoeveelheid water tussen de gebieden waarvan het water naar de zee of oceanen vloeit.	zeeën
Een hoofdrivier met al zijn zijrivieren.	rivierstelsel
Het is een stuk land dat bijna volledig omgeven is door water.	schiereiland
Het gebied waarvan het water via het rivierenstelsel afvloeit.	stroomgebied
Het is een stuk land volledig omgeven door water.	eiland

Nederland

1. Gebruik volgende bronnen en vul de identiteitskaart in.

Gebruik je bronnenboek pagina 70-71 en <https://wikikids.nl/Nederland>

Land: ... Nederland	Kleur de Nederlandse vlag:
Hoofdstad: ... Amsterdam	
Taal: ... Nederlands	
Aantal inwoners: ... 17.248.789	Duid Nederland aan op de kaart: 
Oppervlakte grondgebied: ... 41.543 km²	
Bevolkingsdichtheid: ... 415 inwoners/ km²	
Koning: ... Koning Willem-Alexander	
Water (rivieren en meren): ... Rijn, Maas	
Industrie (producten en of streken): ... in-en uitvoer, gas-en aardoliewinning	Reliëf: ... laagvlakte
Landbouw (producten en of streken): ... zuivel (melk, kaas, ...) bloemen, veeteelt	toerisme (soorten/ en streken): ... fietstoerisme, waddeneilanden, Veluwe,
	Specialiteiten (gerechten, evenementen): ... molens, voetbal, Elfstedentocht

De Europese unie

1. Bekijk volgend filmpje (<https://schooltv.nl/video/de-europese-unie-europa-is-veranderd/#q=europese%20unie>), vul de vragen in:

Wanneer ontstond de Europese unie?

- Na Wereldoorlog 1
- Na wereldoorlog 2
- Na 1990

Waarom ontstond de Europese unie?

- Om samen te werken voor de handel.
- Om de kans op een volgende oorlog te verkleinen.
- Om samen te werken voor de taal.

Wat mochten de inwoners doen door het ontstaan van de Europese unie?

- Dezelfde achternaam hebben.
- Vrij reizen door Europa.
- Wonen waar ze willen.

Is volgende uitspraak correct: de wetten van de Europese unie zijn niet geldig voor de inwoners van de Europese unie.

- Waar
- Niet waar

Wat deed de douane voor de Europese unie?

- Ze controleren alle goederen die mensen meenamen.
- Ze betaalden belastingen aan de mensen die de grens overstaken.
- Ze controleerden de paspoorten van de mensen.

Welk land is net uit de Europese unie?

- België
- Het Verenigd Koninkrijk
- Nederland



2. Lees pagina 72 t.e.m. 75 in het bronnenboek en vul onderstaande quiz in.

Na de Tweede Wereldoorlog werd Duitsland onderverdeeld in twee staten:

- Noord- en Oost-Duitsland
- Noord- en Zuid-Duitsland
- Oost- en West-Duitsland

Is deze uitspraak correct: Natuurkundig kun je Duitsland in twee delen opdelen.

- Waar
- Niet waar

Frankrijk ligt ten opzichte van België:

- Ten westen
- Ten oosten
- Ten zuiden

Waarvoor is Frankrijk niet wereldwijd bekend?

- Wijn
- TGV
- Eiffeltoren
- Braadworst

Het Verenigd Koninkrijk bestaat uit vier landen:

- Wales, Schotland, Ierland en Noord-Ierland
- Engeland, Wales, Schotland en Noord-Ierland
- Engeland, Ierland, Schotland en Noord-Ierland

Waarvoor is het Verenigd Koninkrijk niet wereldwijd bekend?

- Cricket
- Links rijden
- Doedelzak
- Kaas

De hoofdstad van Zweden is:

- Lapland
- Stockholm
- Helsinki

Waarvoor is Zweden niet wereldwijd bekend?

- Ikea
- Rode dubbeldekkers
- Veel naaldbomen
- H&M
- Scania-truck

Wat heeft Tsjechië niet?

- Zeeën
- Havens
- Laagvlakten
- Gebergten
- Wouden

Waarvoor staat Tsjechië niet bekend?

- bier
- Praag
- Pizza
- Burchten en kastelen
- warmwaterbronnen

In welke zee ligt Italië?

- Zwarte zee
- Middellandse zee
- Noordzee

Waarvoor staat Italië niet wereldwijd bekend?

- Pastagerechten
- Oude steden zoals Rome en Milaan
- kaas
- Ferrari
- mode

Wereld

1. Lees pagina 76 t.e.m. 78 in het bronnenboek en vul onderstaande quiz in.

Welke landschappen heeft Noord-

Amerika:

- [Bossen](#)
- [Ijsvlakten](#)
- [Woestijnen](#)
- [Oerwouden](#)
- [Gebergten](#)

Welk land behoort er niet tot Amerika:

- Verenigde Staten
- Cuba
- Ecuador
- Mexico
- Guatemala
- Canada

Is deze uitspraak correct: Zuid-Amerika strekt zich uit van net boven de evenaar tot aan het zuidpoolgebied.

- [Waar](#)
- Niet waar

Welk gebergte bevindt zich in Zuid-

Amerika:

- Himalaya
- Alpen
- [Andesgebergte](#)

Welke organisatie helpt de Zuid-Amerikanen boeren die in armoede leven?

- [Oxfam](#)
- Artsen zonder grenzen
- Unicef

Wat is de hoogste berg ter wereld?

- Andesgebergte
- [Himalaya](#)
- Alpen

Het werelddeel Azië grenst aan:

- [Indische en Stille Oceaan](#)
- Atlantische en Stille Oceaan
- Afrika en Oceanië
- [Afrika en Europa](#)

Is deze uitspraak correct: In de 20^{ste} eeuw waren vele Afrikaanse landen een kolonie van een Europees land. Nu zijn ze nog niet onafhankelijk.

- Waar
- Niet waar

Is deze uitspraak correct: op het platteland wonen nog veel Indianen als een stam in een dorp.

- Waar
- Niet waar

Wie zijn de oorspronkelijke bewoners van Australië

- Aboriginals
- Indianen
- Afrikanen

Het werelddeel Oceanië ligt in:

- Indische Oceaan
- Stille Oceaan
- Atlantische Oceaan

Is deze uitspraak correct: Antarctica is het continent rond de noordpool.

- Waar
- Niet waar

Is deze uitspraak correct: er wonen veel mensen op Antarctica.


- Waar
- Niet waar

Actualiteit

Weet jij veel over de actualiteit? Vul dan volgende quiz in: <https://www.ketnet.be/quiz/de-actuaquiz-van-karrewiet>

Covid- 19

Vul het kruiswoordraadsel in.



Horizontaal

2. Teken van respect voor hulpverleners
5. Coronavirus
7. Slogan van het coronavirus
8. Soort epidemie
10. Eerste land getroffen met het virus

Verticaal

1. Activiteit voor kinderen
2. Minister van onderwijs
3. Minister van volksgezondheid
4. Wat moet je vooral doen?
6. Op hoeveel meter van elkaar?
9. Bedanking aan hulpverleners

De barmhartige Samaritaan

1. Bekijk het volgende filmpje:

https://www.youtube.com/watch?v=YDDvp4_E4Vk&t=52s



2. Beantwoord volgende vragen:

- Waarom helpt niemand de man?
- Zou jij de man helpen?
- Hoe kan je iemand helpen?
- Heb je geld nodig om iemand te helpen? Wat heb je nodig om iemand te helpen?
- Wat heb jij gedaan om anderen te helpen?

2. Help je mee?

Nu dat iedereen in zijn kot moet blijven, kunnen we toch door kleine gebaren onze naasten helpen.

- Opdracht 1: schrijf een brief naar iemand die je mist. Dit kunnen je grootouders, vrienden, familie, burens zijn.
- Opdracht 2: hang een wit laken buiten om zo de mensen die in de zorg werken te bedanken.
- Opdracht 3: klap om 20u om de mensen in de zorg te bedanken.
- Opdracht 4: help je ouders in het huishouden of verwen hen met iets lekkers.