

Van laag naar hoog in Europa en de wereld

Deel met de atlas

Basiskennis kaartvaardigheid

1. Bekijk volgend filmpje: <https://youtu.be/zcWFlaymh48>
2. Plaats onderstaande woorden bij de juiste afbeelding:

Staatkundige kaart / register / kaart aardrijkskundige streken / inhoudstafel / legende



.....

Functie?

.....

.....

.....

Functie?

.....

.....



.....

Functie?

.....

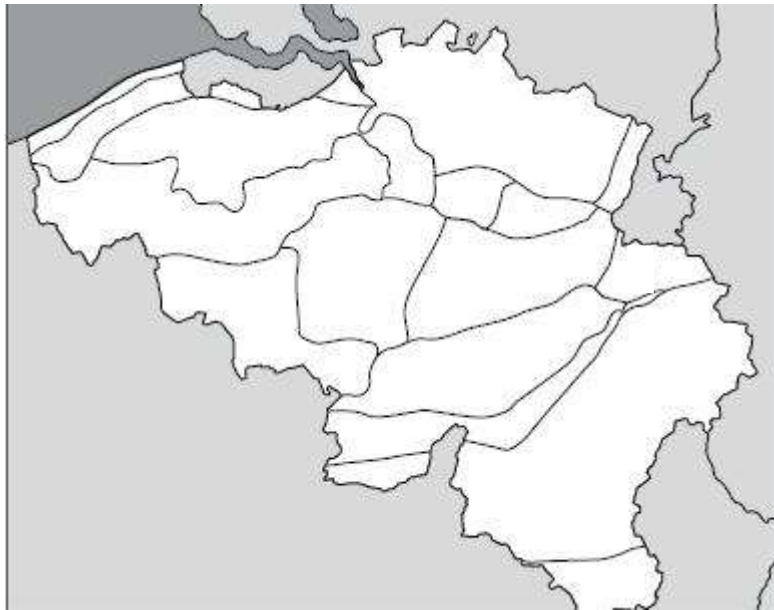
.....

Functie?

.....

België

1. Extra hulp nodig bekijk het volgende filmpje: https://youtu.be/3HZW_u8dREc
2. Zoek volgende aardrijkskundige streken en geef ze een nummer: 1) Polders en 2) Ardennen.
3. Vul de visitekaart in.



De Polders	
De ligging ten opzicht van de zeespiegel?	Stad gelegen in de Polders? <input type="radio"/> Rivier gelegen in de Polders?
De Ardennen	
De ligging ten opzicht van de zeespiegel?	Steden gelegen in de Ardennen? <input type="radio"/> <input type="radio"/> <input type="radio"/>

Europa

1. Extra hulp nodig? Bekijk volgend filmpje: <https://youtu.be/cW9dnZ6m86I>

2. Kleur volgende gebergten:

Pyreneeën (rood), Alpen (blauw)



3. Zoek in je atlas en duid het juiste antwoord aan.

- De Donau ontspringt in de Alpen/ het Zwarte Woud/ het Centraal Massief.
- De Donau stroomt door de volgende landen: Zwitserland/ Duitsland/ Oostenrijk/ Slovenië/ Hongarije/ Kroatië/ Servië/ Bulgarije/ Roemenië.
- De Donau mondt uit in de Kaspische Zee/ de Middellandse Zee/ de Zwarte Zee.
- De Rijn ontspringt in de Alpen/ de Apennijnen/ de Vogezen.
- De Rijn mondt uit in de Noordzee/ de Middellandse Zee/ de Atlantische Oceaan.

4. Wat is de natuurlijke grens van deze landen?

Frankrijk en Spanje	
Bulgarije en Roemenië	
Europa en Azië	

4. Vul in: golf, zeestraat, schiereiland of eiland


- A)
- B)
- C)
- D)

(TIP: gebruik kaart 18)



De Europese unie


1. Combineer het land met de kaart en met het typische kenmerk van het land



A)



B)




C)



1)



D)



2)



3)



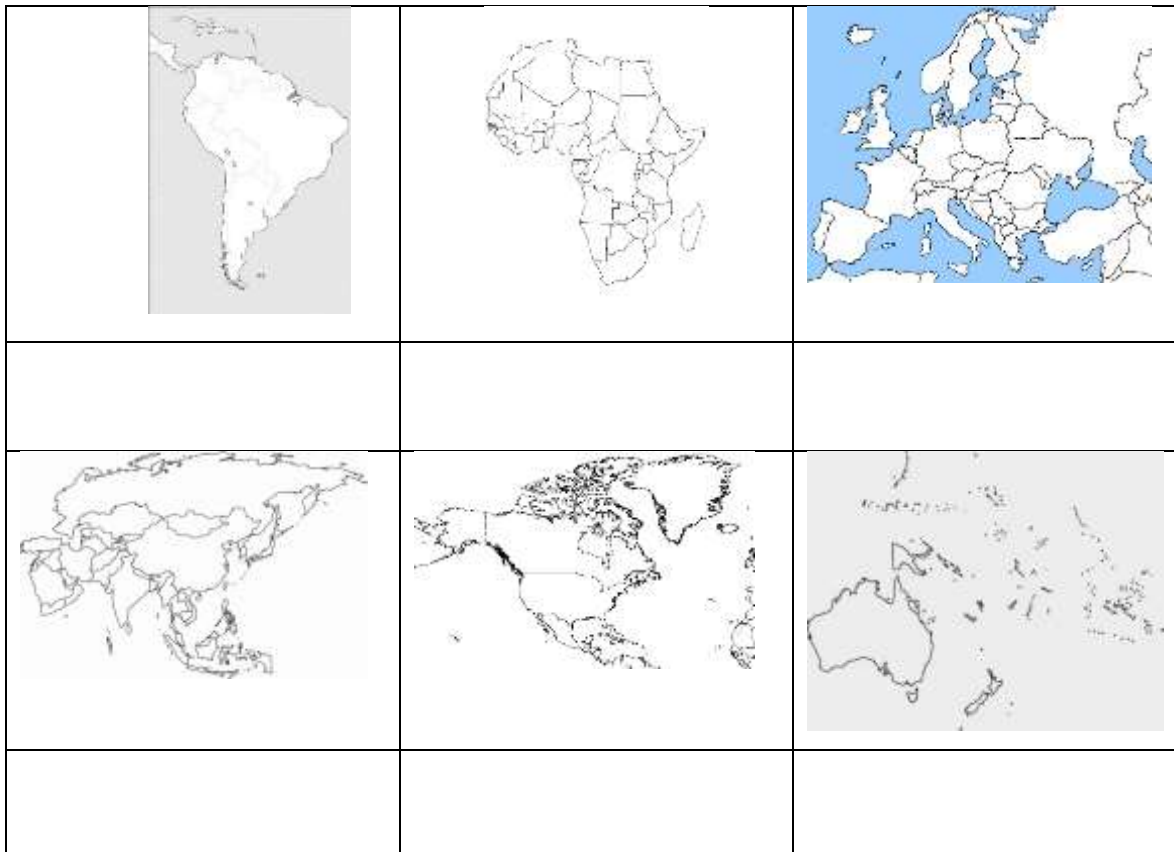
4)

Italië	Frankrijk	Zweden	Duitsland

De wereld

1. Extra hulp nodig? Bekijk volgend filmpje: <https://youtu.be/HETSzAohdaU>
2. Onze wereld is in verschillende delen verdeeld. Zet het juiste werelddeel bij de afbeelding.

Europa / Azië / Noord-Amerika / Zuid-Amerika / Afrika / Oceanië



3. Bereken de bevolkingsdichtheid en zoek het werelddeel in je atlas.

Extra hulp nodig: bekijk volgend filmfragment: https://youtu.be/v5XGrZMEh_E

	Oppervlakte	Aantal inwoners	Bevolkingsdichtheid	werelddeel
Canada	9 970 610 km ²	33 212 696		
Bangladesh	143 998km ²	153547901		

4. Duid volgende landen aan op de wereldkaart en noteer het werelddeel.

inkleuren	Land	Werelddeel
Geel	Mongolië	
Bruin	Australië	
Blauw	Soedan	
Rood	Ecuador	
oranje	Mexico	



5. Zoek het land en het werelddeel bij de hoofdstad.

Hoofdstad	Land	Werelddeel
Peking		
Ottawa		
Canberra		
Lima		
Dakar		

6. Verbind de rivier en het gebergte aan het juiste werelddeel

Rivier	Werelddeel	gebergte
--------	------------	----------

Mississippi •

Ganges •

Amazone •

Nijl •

Donau •

• Europa •

• Azië •

• Noord-Amerika •

• Zuid-Amerika

• Afrika •

• Andesgebergte

• Karpaten

• Rotsgebergte

• Ethiopische
Hoogland

• Himalaya

Deel zonder atlas

Belgie

1. Bekijk het volgende filmfragment tot minuut 6:08: <https://schooltv.nl/video/natuur-in-grotten/#q=grot>

In de grotten kun je zowel stalactieten als stalagmieten vinden. Zie jij het verschil hieronder?
Schrijf de juiste naam bij de foto.

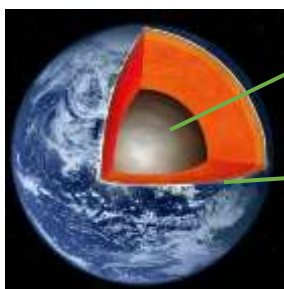


Europa

Reliëf

1. Bekijk het filmpje over gebergtes en reliëf: <https://youtu.be/2fP-hD-jXkw>
2. Vul volgende vragen in:

a. Duid de verschillende onderdelen van de aarde aan:



.....

.....

.....

b. Teken hoe een berg tot stand komt:

	<p>Er zijn twee die tegen elkaar duwen, waardoor de twee elkaar naar omhoog duwen.</p> <p>Er treedt ook erosie op. Dit betekent dat water, wind en ijs van hoog naar laag gaan en zo al schurend dalen en valleien vormen.</p>
--	--

Europa kun je indelen in drie hoogten.



het laagland tussen 0 en 200 m	het middelland tussen 200 en 2000 m	het hoogland hoger dan 2000 m
--	---	---

Zo ligt het vlakke deel van België in het laagland. De plateaus in ons land liggen dan weer in het middelland. In ons land kennen we drie reliëfvormen: vlakte, heuvelland en plateau. In Europa komt daar nog een vierde bij: het gebergte.

c. Waarmee moeten we rekening houden als we het reliëf van een landschap willen achterhalen?

- H.....
- H.....
- H.....
- H.....

d. Bekijk volgende afbeelding welk reliëf is dit? Duid de verschillende H's aan.



Doe-opdracht

Bekijk het volgende filmpje: <https://youtu.be/RFGRThYMWOc>

Waterstromingen

1. Lees in je bronnenboek pagina 68-69.
2. Plaats onderstaande woorden bij de juiste beschrijving.


Waterbron / hoofdrivier / zijrivier / rivierstelsel / bergrivier / natuurlijke grens / waterscheidingslijn / stroomgebieden / meren / zeeën / oceanen / eiland / schiereiland / golf / fjord / zeestraat

Dit is een lijn die gevormd wordt door bergen of rivieren.	
Dit zijn kleine rivieren die samenvloeien naar een hoofdrivier.	
De scheiding tussen twee stroomgebieden.	
Groot watergebied tussen landen, groter dan een zee.	
Hier ontspringt/ start een rivier.	
Een smal gedeelte water tussen twee stukken land.	
Het ontspringt in de bergen of in een plateau	
Een inham in een bergachtige kust, gekenmerkt door steile wanden die door gletsjers zijn uitgesleten.	
Stilstaande waters die volledig omgeven zijn door land.	
Dit mondt uit in de zee of in allerlei zijrivieren.	
Als een deel van de zee of de oceaan in het land binnendringt dan noemen we dit een inham, baai of	
Een lijn tussen de gebieden waarvan het water naar de zee of oceanen vloeit.	
Een hoofdrivier met al zijn zijrivieren.	
Het is een stuk land dat bijna volledig omgeven is door water.	
Het gebied waarvan het water via het rivierenstelsel afvloeit.	
Het is een stuk land volledig omgeven door water.	

Nederland

1. Gebruik volgende bronnen en vul de identiteitskaart in.

Gebruik je bronnenboek pagina 70-71 en <https://wikikids.nl/Nederland>

Land:	Kleur de Nederlandse vlag:
Hoofdstad:	
Taal:	
Aantal inwoners:	Duid Nederland aan op de kaart: 
Oppervlakte grondgebied:	
Bevolkingsdichtheid:	
Koning:	
Water (rivieren en meren):	Reliëf:
Industrie (producten en of streken):	toerisme (soorten/ en streken):
Landbouw (producten en of streken):
.....	Specialiteiten (gerechten, evenementen):
.....

De Europese unie

1. Bekijk volgend filmpje (<https://schooltv.nl/video/de-europese-unie-europa-is-veranderd/#q=europese%20unie>), vul de vragen in:

Wanneer ontstond de Europese unie?

- Na Wereldoorlog 1
- Na wereldoorlog 2
- Na 1990

Waarom ontstond de Europese unie?

- Om samen te werken voor de handel.
- Om de kans op een volgende oorlog te verkleinen.
- Om samen te werken voor de taal.

Wat mochten de inwoners doen door het ontstaan van de Europese unie?

- Dezelfde achternaam hebben.
- Vrij reizen door Europa.
- Wonen waar ze willen.

Is volgende uitspraak correct: de wetten van de Europese unie zijn niet geldig voor de inwoners van de Europese unie.

- Waar
- Niet waar

Wat deed de douane voor de Europese unie?

- Ze controleren alle goederen die mensen meenamen.
- Ze betaalden belastingen aan de mensen die de grens overstaken.
- Ze controleerden de paspoorten van de mensen.

Welk land is net uit de Europese unie?

- België
- Het Verenigd Koninkrijk
- Nederland



2. Lees pagina 72 t.e.m. 75 in het bronnenboek en vul onderstaande quiz in.

Na de Tweede Wereldoorlog werd Duitsland onderverdeeld in twee staten:

- Noord- en Oost-Duitsland
- Noord- en Zuid-Duitsland
- Oost- en West-Duitsland

Is deze uitspraak correct: Natuurkundig kun je Duitsland in twee delen opdelen.

- Waar
- Niet waar

Frankrijk ligt ten opzichte van België:

- Ten westen
- Ten oosten
- Ten zuiden

Waarvoor is Frankrijk niet wereldwijd bekend?

- Wijn
- TGV
- Eiffeltoren
- Braadworst

Het Verenigd Koninkrijk bestaat uit vier landen:

- Wales, Schotland, Ierland en Noord-Ierland
- Engeland, Wales, Schotland en Noord-Ierland
- Engeland, Ierland, Schotland en Noord-Ierland

Waarvoor is het Verenigd Koninkrijk niet wereldwijd bekend?

- Cricket
- Links rijden
- Doedelzak
- Kaas

De hoofdstad van Zweden is:

- Lapland
- Stockholm
- Helsinki

Waarvoor is Zweden niet wereldwijd bekend?

- Ikea
- Rode dubbeldekkers
- Veel naaldbomen
- H&M
- Scania-truck

Wat heeft Tsjechië niet?

- Zeeën
- Havens
- Laagvlakten
- Gebergten
- Wouden

Waarvoor staat Tsjechië niet bekend?

- bier
- Praag
- Pizza
- Burchten en kastelen
- warmwaterbronnen

In welke zee ligt Italië?

- Zwarte zee
- Middellandse zee
- Noordzee

Waarvoor staat Italië niet wereldwijd bekend?

- Pastagerechten
- Oude steden zoals Rome en Milaan
- kaas
- Ferrari
- mode

Wereld

1. Lees pagina 76 t.e.m. 78 in het bronnenboek en vul onderstaande quiz in.

Welke landschappen heeft Noord-

Amerika:

- Bossen
- Ijsvlakten
- Woestijnen
- Oerwouden
- Gebergten

Welk land behoort er niet tot Amerika:

- Verenigde Staten
- Cuba
- Ecuador
- Mexico
- Guatemala
- Canada

Is deze uitspraak correct: Zuid-Amerika strekt zich uit van net boven de evenaar tot aan het zuidpoolgebied.

- Waar
- Niet waar

Welk gebergte bevindt zich in Zuid-

Amerika:

- Himalaya
- Alpen
- Andesgebergte

Welke organisatie helpt de Zuid-Amerikanen boeren die in armoede leven?

- Oxfam
- Artsen zonder grenzen
- Unicef

Wat is de hoogste berg ter wereld?

- Andesgebergte
- Himalaya
- Alpen

Het werelddeel Azië grenst aan:

- Indische en Stille Oceaan
- Atlantische en Stille Oceaan
- Afrika en Oceanië
- Afrika en Europa

Is deze uitspraak correct: In de 20^{ste} eeuw waren vele Afrikaanse landen een kolonie van een Europees land. Nu zijn ze nog niet onafhankelijk.

- Waar
- Niet waar

Is deze uitspraak correct: op het platteland wonen nog veel Indianen als een stam in een dorp.

- Waar
- Niet waar

Wie zijn de oorspronkelijke bewoners van Australië

- Aboriginals
- Indianen
- Afrikanen

Het werelddeel Oceanië ligt in:

- Indische Oceaan
- Stille Oceaan
- Atlantische Oceaan

Is deze uitspraak correct: Antarctica is het continent rond de noordpool.

- Waar
- Niet waar

Is deze uitspraak correct: er wonen veel mensen op Antarctica.


- Waar
- Niet waar

Actualiteit

Weet jij veel over de actualiteit? Vul dan volgende quiz in: <https://www.ketnet.be/quiz/de-actuaquiz-van-karrewiet>

Covid- 19

Vul het kruiswoordraadsel in.



Horizontaal

2. Teken van respect voor hulpverleners
5. Coronavirus
7. Slogan van het coronavirus
8. Soort epidemie
10. Eerste land getroffen met het virus

Verticaal

1. Activiteit voor kinderen
2. Minister van onderwijs
3. Minister van volksgezondheid
4. Wat moet je vooral doen?
6. Op hoeveel meter van elkaar?
9. Bedanking aan hulpverleners